

**Проверочная работа
по БИОЛОГИИ**

5 КЛАСС

Образец

Инструкция по выполнению работы

На выполнение работы по биологии даётся 45 минут. Работа включает в себя 10 заданий.

Ответы на задания запишите в поля ответов в тексте работы. В случае записи неверного ответа зачеркните его и запишите рядом новый.

При выполнении работы не разрешается пользоваться учебником, рабочими тетрадями и другим справочным материалом.

При необходимости можно пользоваться черновиком. Записи в черновике проверяться и оцениваться не будут.

Советуем выполнять задания в том порядке, в котором они даны. В целях экономии времени пропускайте задание, которое не удаётся выполнить сразу, и переходите к следующему. Если после выполнения всей работы у Вас останется время, то Вы сможете вернуться к пропущенным заданиям.

Желаем успеха!



В образце представлено по два примера заданий 3 и 4. В реальных вариантах проверочной работы на каждую из этих позиций будет предложено только одно задание.

1 Рассмотрите изображение чёрной смородины и выполните задания.



1.1. Покажите стрелками и подпишите на рисунке *стебель, лист, цветок (соцветие), плод* чёрной смородины.

1.2. В каком из этих органов в течение всего лета происходит фотосинтез?

Ответ: _____

1.3. В приведённом ниже списке названы органы растения. Все они, за исключением одного, выполняют функцию полового размножения. Выпишите название органа растения, который «выпадает» из общего ряда и выполняет другую функцию. Объясните свой выбор.

Лист, плод, семя, цветок.

Ответ: _____

2 У смородины ранней весной появляются молодые стебли с листьями. Найдите в приведённом ниже списке и запишите название этого процесса.




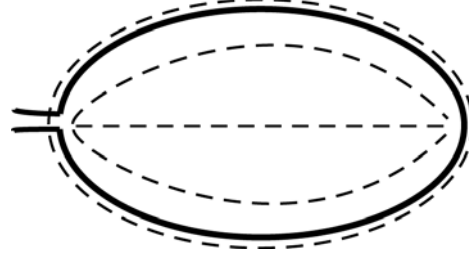
Дыхание, питание, рост, плодоношение.

Ответ: _____


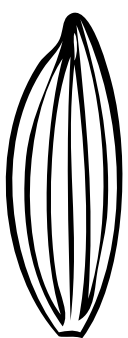


3

Рассмотрите изображение листа сирени и опишите его по следующему плану: форма листа, жилкование листа, тип листа по соотношению длины и ширины листовой пластинки (без черешка) и по расположению наиболее широкой части. Используйте при выполнении задания линейку и карандаш.

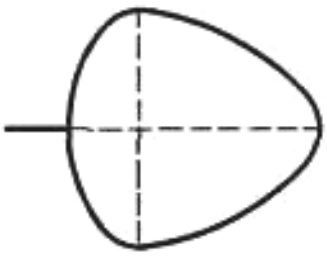
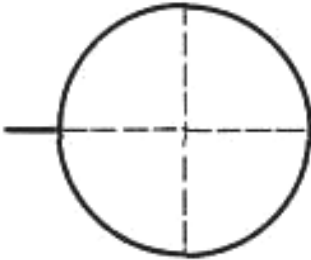
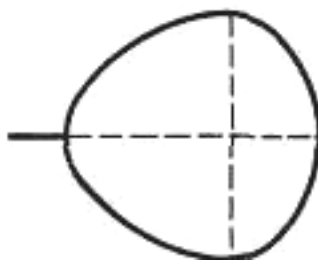
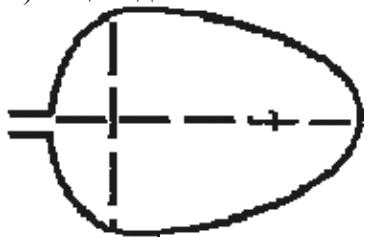
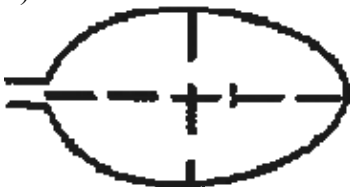
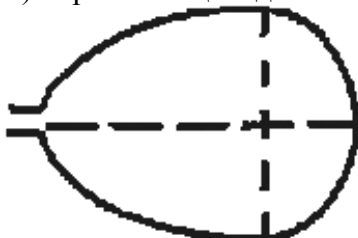
**А. Форма листа**

1) перисто-лопастная 	2) перисто-раздельная 
3) перисто-рассечённая 	4) цельная 

Б. Жилкование листа

			
1) параллельное	2) дуговидное	3) пальчатое	4) перисто-сетчатое

В. Тип листа по соотношению длины и ширины листовой пластинки (без черешка) и по расположению наиболее широкой части

Длина равна ширине или немного её превышает.		
1) широкояйцевидный 	2) округлый 	3) обратно-широкояйцевидный 
Длина превышает ширину в 1,5–2 раза.		
4) яйцевидный 	5) овальный 	6) обратно-яйцевидный 

Впишите в таблицу **номера** выбранных ответов под соответствующими буквами.



Ответ:

А	Б	В

ИЛИ

3

Рассмотрите фотографии собаки породы немецкий пинчер и опишите её по следующему плану: окрас собаки, форма ушей, форма хвоста.



А. Окрас

1) однотонный



2) пятнистый (два и более пятна)





3) чепрачный (одно пятно)






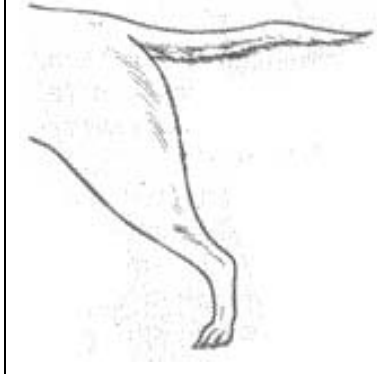


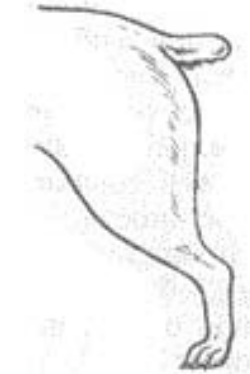
4) подпалый



Б. Форма ушей

1) стоячие 	2) полустоячие 	3) развешенные 
4) висящие 	5) сближенные 	6) сильно укороченные 

В. Форма хвоста

1) саблевидная 	2) кольцом 	3) поленом 	4) прутом 
5) крючком 	6) серпом 	7) купированный 	

Впишите в таблицу **номера** выбранных ответов под соответствующими буквами.

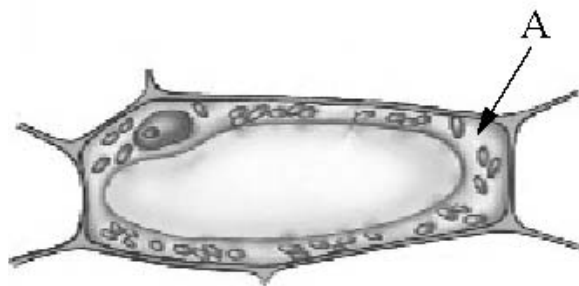


Ответ:

А	Б	В

4

Ученик рассмотрел под микроскопом лист смородины и сделал соответствующий рисунок клетки листа. Что на рисунке клетки он обозначил буквой А?



Ответ: _____

ИЛИ

4

Ученик на уроке изучал устройство микроскопа и делал соответствующие подписи к рисунку. Какую деталь микроскопа на рисунке он обозначил буквой А?



Ответ: _____

5

Анна решила посадить дерево на своём дачном участке. Расставьте по порядку номера действий, которые она должна осуществить.

- 1) налить в выкопанную лунку воду
- 2) полить посаженное дерево
- 3) поместить растение в лунку
- 4) засыпать лунку землёй
- 5) выкопать лунку



Номера действий в правильном порядке впишите в таблицу.

Ответ:

--	--	--	--	--

6

6.1. Используя приведённую ниже таблицу, ответьте на вопросы.

Состав семян растений

Растения	Содержание веществ, в %		
	Вода	Белки, жиры, углеводы	Минеральные соли
Пшеница	13,4	84,7	1,9
Подсолнечник	6,7	89,8	3,5
Горох	14,0	83,6	2,4
Лён	8,0	87,4	4,6

В семенах какого растения содержится больше всего минеральных солей?

Ответ: _____

В семенах каких растений содержится более 10% воды?

Ответ: _____

В семенах какого растения содержится большего всего белков, жиров и углеводов?

Ответ: _____

6.2. Ниже приведены фотографии растений, указанных в таблице. Подпишите под каждой фотографией название соответствующего растения.



А. _____



Б. _____



В. _____



Г. _____

6.3. Из этих растений (задания 6.1, 6.2) производят текстиль и продукты питания. Под каждой из приведённых ниже фотографий подпишите название соответствующего растения, которое используют в каждом случае.



А. _____

Б. _____

В. _____

7

Прочитайте текст и выполните задания.

(1) Лисица обыкновенная – хищное животное массой до 10 кг, широко распространённое на территории Евразии, Северной Америки. (2) Лисица – зверь среднего размера с изящным туловищем на невысоких тонких лапах, с вытянутой мордой, острыми ушами и длинным пушистым хвостом. (3) Самки лисицы рожают живых детёнышей и выкармливают их молоком. (4) Мех у лисицы густой, длинный, рыжего цвета, хорошо удерживающий тепло, поэтому зверь издавна был объектом мехового промысла. (5) Лисицы охотятся в основном на мышей, однако вблизи человеческого жилья могут нападать на домашнюю птицу. (6) В дикой природе лисицы редко живут более семи лет.

7.1. В каких предложениях текста описываются признаки, на основе которых можно сделать вывод о том, что лисицу обыкновенную относят к группе млекопитающих животных? Запишите номера выбранных предложений.

Ответ: _____

7.2. Сделайте описание волка серого по следующему плану.

А) В сравнении с лисцей волк **крупнее/мельче**.

Ответ: _____

Б) Какой покров тела у волка?

Ответ: _____

В) Чем волк питается?

Ответ: _____



8 Заполните пропуски в таблице «Природные зоны», выбрав слова из приведённого ниже списка. Запишите на место каждого пропуска **номер** выбранного слова.

Природные зоны

Природная зона	Животное	Растение	Природные условия
			Устойчивый снежный покров, холодные продолжительные зимы

Список слов:

- 1) ель
- 2) белка
- 3) верблюд
- 4) саксаул
- 5) тайга
- 6) пустыня

9 Как Вы думаете, какое правило устанавливается изображённым на рисунке знаком? Напишите в ответе это правило и укажите место, где можно встретить такой знак.



Ответ: _____

10 На фотографии изображён представитель одной из профессий, связанных с биологией. Определите эту профессию.



Ответ: _____

Напишите, какую работу выполняют люди этой профессии. Чем эта работа полезна обществу?

Ответ: _____

Система оценивания проверочной работы

Правильный ответ на каждое из заданий 1.2, 2 и 4 оценивается **1 баллом**.

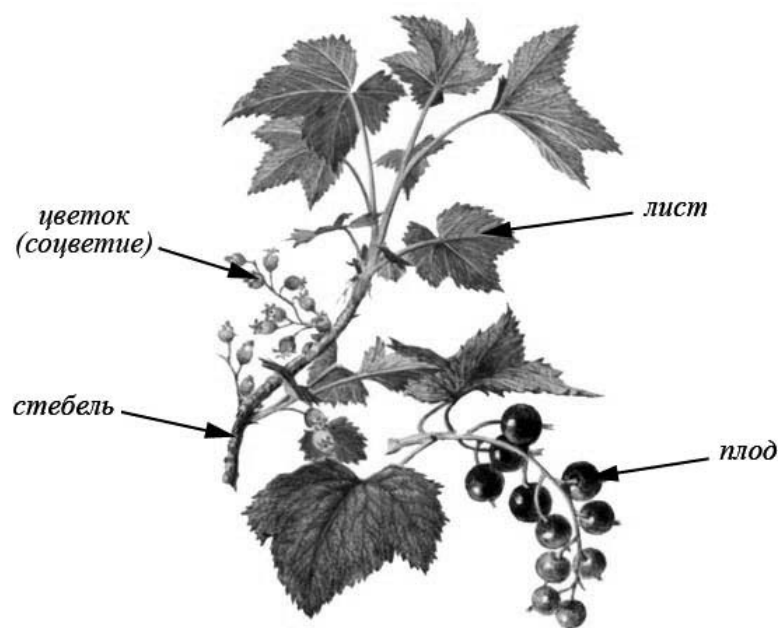
Полный правильный ответ на каждое из заданий 3, 6.2, 6.3, 7.1 и 8 оценивается **2 баллами**. Если в ответе допущена одна ошибка (в том числе написана лишняя цифра или не написана одна необходимая цифра), выставляется **1 балл**; если допущено две или более ошибки – **0 баллов**.

Правильный ответ на задание 5 оценивается **2 баллами**. Если в ответе переставлены местами две цифры, выставляется **1 балл**.

Номер задания	Правильный ответ	
1.2	лист	
2	рост	
3	441	424
4	цитоплазма	объектив
5	51342	
6.2	А) лён Б) горох В) пшеница Г) подсолнечник	
6.3	А) лён Б) подсолнечник В) пшеница	
7.1	234 (в любой последовательности)	
8	521	

1

1.1. Покажите стрелками и подпишите на рисунке *стебель*, *лист*, *цветок (соцветие)*, *плод* чёрной смородины.



Содержание верного ответа и указания по оцениванию	Баллы
Верно подписаны четыре органа растения	2
Верно подписаны только два-три органа растения	1
Верно подписан только один орган растения. ИЛИ Ответ неправильный	0
<i>Максимальный балл</i>	2

1.3. В приведённом ниже списке названы органы растения. Все они, за исключением одного, выполняют функцию полового размножения. Выпишите название органа растения, который «выпадает» из общего ряда и выполняет другую функцию. Объясните свой выбор.

Лист, плод, семя, цветок.

Содержание верного ответа и указания по оцениванию (допускаются иные формулировки ответа, не искажающие его смысла)	Баллы
Правильный ответ должен содержать следующие элементы: 1) <u>«выпадающий» из логического ряда орган растения</u> : лист; 2) <u>объяснение</u> , например: лист обеспечивает фотосинтез/дыхание/испарение. Объяснение может быть приведено в иной, близкой по смыслу формулировке	
Правильно указан орган растения, дано объяснение	2
Правильно указан только орган растения	1
Орган растения указан неправильно независимо от наличия/отсутствия объяснения. ИЛИ Ответ неправильный	0
<i>Максимальный балл</i>	2

6

6.1. Используя приведённую ниже таблицу, ответьте на вопросы.

Состав семян растений

Растения	Содержание веществ, в %		
	Вода	Белки, жиры, углеводы	Минеральные соли
Пшеница	13,4	84,7	1,9
Подсолнечник	6,7	89,8	3,5
Горох	14,0	83,6	2,4
Лён	8,0	87,4	4,6

В семенах какого растения содержится больше всего минеральных солей?

В семенах каких растений содержится более 10% воды?

В семенах какого растения содержится большего всего белков, жиров и углеводов?

Содержание верного ответа и указания по оцениванию	Баллы
Правильный ответ должен содержать <u>ответы на три вопроса</u> : 1) в семенах льна; 2) в семенах пшеницы и гороха; 3) в семенах подсолнечника	
Правильно даны ответы на три вопроса	2
Правильно даны ответы на любые два вопроса	1
Правильно дан ответ только на один любой вопрос. ИЛИ Ответ неправильный	0
<i>Максимальный балл</i>	2

7

7.2. Сделайте описание волка серого по следующему плану.

А) В сравнении с лисицей волк **крупнее/мельче**.

Ответ: _____

Б) Какой покров тела у волка?

Ответ: _____

В) Чем волк питается?

Ответ: _____



Содержание верного ответа и указания по оцениванию (допускаются иные формулировки ответа, не искажающие его смысла)	Баллы
Правильный ответ должен содержать <u>описание/признаки по трём пунктам плана</u> : А) крупнее (волк крупнее лисицы); Б) мех густой серо-бурого цвета; В) олень/лось/косуля/кабан/лисица/заяц/мыши/домашние животные и др. Элементы описания могут быть приведены в иной, близкой по смыслу формулировке	
Правильно даны ответы по трём пунктам плана	2
Правильно даны ответы по двум любым пунктам плана	1
Правильно дан ответ только по одному любому пункту плана. ИЛИ Ответ неправильный	0
<i>Максимальный балл</i>	2

9

Как Вы думаете, какое правило устанавливается изображённым на рисунке знаком?

Напишите в ответе это правило и укажите место, где можно встретить такой знак.



Содержание верного ответа и указания к оцениванию (допускаются иные формулировки ответа, не искажающие его смысла)	Баллы
Правильный ответ должен содержать следующие <u>элементы</u> : 1) <u>правило</u> : здесь запрещается ловить бабочек; 2) <u>указание места</u> : в заповеднике / ботаническом саду / национальном парке. Правило и указание места могут быть приведены в иной, близкой по смыслу формулировке	
Правильно определено и записано правило, указано место	2
Правильно определено и записано правило, место не указано	1
Правило и место не определены / определены неправильно	0
<i>Максимальный балл</i>	2

10

На фотографии изображён представитель одной из профессий, связанных с биологией. Определите эту профессию.



Напишите, какую работу выполняют люди этой профессии. Чем эта работа полезна обществу?

Критерии и указания к оцениванию		Баллы
К1	Определение профессии	1
	Профессия: цветовод/садовод/садовник/флорист/ландшафтный дизайнер	1
	Профессия не определена в явном виде / определена неправильно	0
	<i>Если профессия в явном виде не определена / определена неправильно и по критерию К1 выставлен 0 баллов, то по всем остальным позициям оценивания выставляется 0 баллов</i>	
К2	Пояснение характера работы <i>При оценивании объём пояснения не учитывается; краткое пояснение, правильное по существу, может быть оценено максимальным баллом по данному критерию</i>	1
	Правильно пояснено, какую работу выполняют представители данной профессии	1
	Пояснение о том, какую работу выполняют представители данной профессии, отсутствует. ИЛИ Ответ неправильный	0
К3	Объяснение пользы для общества <i>При оценивании в качестве правильного может быть принято объяснение в любом объёме. Главное – конкретизация объяснения применительно к данной профессии</i>	1
	Дано уместное объяснение того, чем работа людей данной профессии полезна обществу	1
	Приведены рассуждения общего характера, не связанные с общественной значимостью данной профессии. ИЛИ Ответ неправильный	0
<i>Максимальный балл</i>		3

Система оценивания выполнения всей работы

Максимальный балл за выполнение работы – 28.

Рекомендации по переводу первичных баллов в отметки по пятибалльной шкале

Отметка по пятибалльной шкале	«2»	«3»	«4»	«5»
Первичные баллы	0–8	9–16	17–23	24–28